

TÜRKÇE

MERHABA SEVGİLİ ÇOCUKLAR. BU BÖLÜMDEKİ SORULARI ÖĞRETMENİMİZ SİZE OKUYACAK. SİZLER DE DOĞRU CEVABIN ALTINDAKİ YA DA YANINDAKİ BOŞ KUTUCUĞU İŞARETLEYECEKSİNİZ. BAŞARILAR.



ATATÜRK

Mustafa Kemal ATATÜRK 1881 yılında Selanik'te doğdu. Annesinin adı Zübeyde Hanım, babasının adı Ali Rıza Efendi'dir.

Atatürk, milletimizle birlikte yurdumuzu düşmanlardan kurtarmıştır. Cumhuriyeti kurmuştur. Birçok yenilik yapmıştır.

NOT: 1. 2. ve 3. Soruyu metne göre cevaplayınız.

1. Görsellerden hangisi dinlediğiniz metin ile ilgilidir?



2. Atatürk nerede doğmuştur?

☐ İstanbul'da ☐ Ankara'da ☐ Selanik'te

3. Atatürk'ün annesinin adı nedir?

☐ Makbule ☐ Latife ☐ Zübeyde

4. Hangisi yandaki görseli ifade etmektedir?

- ☐ Niloya o okul mu?
- ☐ Niloya oyun oyna.
- ☐ Niloya tekneyi itme.



Umut ona matematik

5. Yukarıdaki cümlede noktalı yere hangisi gelmelidir?



6. Aşağıdaki görsellerden hangisinin adında
ü sesi daha fazla vardır?



Eylül, Ümit ile oyun oyna.

7. Yukarıdaki cümleyi ifade eden görsel
hangisidir?



8. Hangisi yandaki görseli ifade etmektedir?

☐ Ülkü montu ütüle.

☐ Tuna o anten.

☐ Ünal o tünel.



9. ve 10. soruda görsellerin adının bulunduğu kutucuğu işaretleyiniz.

9.

☐ oyun

☐ koyun

☐ koku



10.

☐ teneke

☐ yetenek

☐ yemek



MATEMATİK

MERHABA SEVGİLİ ÇOCUKLAR. BU BÖLÜMDEKİ SORULARI ÖĞRETMENİMİZ SİZE OKUYACAKLAR. SİZLER DE DOĞRU CEVABIN ALTINDAKİ BOŞ KUTUCUĞU İŞARETLEYECEKSİNİZ. BAŞARILAR.

1. Hangisinde **geriye ikişer sayma** doğru yapılmıştır?

<input type="checkbox"/>	14	12	10	9	8	7	6	4	2
<input type="checkbox"/>	18	16	14	12	10	8	6	4	2
<input type="checkbox"/>	16	15	14	13	12	10	8	6	4

2. Aşağıdakilerden hangisi diğerlerinden daha **hafiftir**?


☐

☐

☐






3. Yukarıdaki görsele göre 3. ağacın
üzerinde kaç elma vardır?

☐ 10

☐ 20

☐ 16

4. Gövdesindeki sayıya göre tırtıl hangi yaprağı
yemelidir?

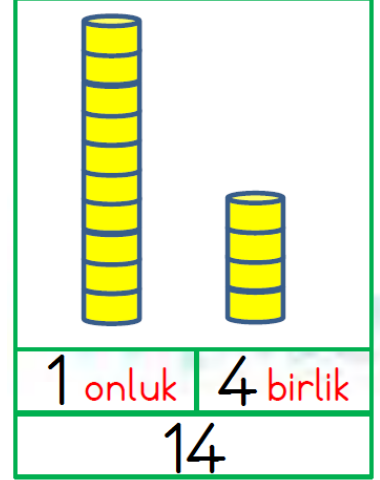



5. Yukarıdaki görselde hangisi ağacın sağındadır?



6. Aşağıdakilerden hangisi onluk ve birliklerine doğru ayrılmıştır?


☐

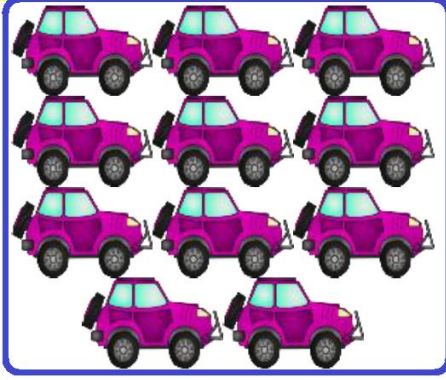
☐

☐



7. Yukarıdaki lalelerle balıkları bire bir eşleştirdiğimizde hangi cümle doğru olur?


	Lalelerin sayısı daha fazladır.
	Balıkların sayısı daha fazladır.
	Lalelerle balıkların sayısı eşittir.



8. Hangisinin sayısı daha fazladır?








9. Yandaki sudoku oyununda yıldız yerine hangi sayı gelmelidir?

1, 2, 3 sayıları yan yana bir kez kullanılır.
1, 2, 3 sayıları alt alta bir kez kullanılır.

1


2

3



10. Yandaki görsele göre en üstte hangi hayvan vardır?









MATEMATİK BÖLÜMÜ BİTMİŞTİR.




HAYAT BİLGİSİ TESTİ

1. Tanışırken aşağıdaki ifadelerden hangisini kullanırsınız?

- ☐ Nereye gidiyorsun?
- ☐ Merhaba, benim adım Ayhan.
- ☐ Türkiye'nin başkenti Ankara'dır.



2. Çocuklardan hangisi okul kurallarına uymamaktadır?



3. Yemek yemek isteyen Medine hangisine gitmelidir?



4. Ekin'in ailesi, Ekin'i okuldan eve götürmek istediğinde kimden izin almalıdır?

- ☐ Okul müdüründen izin almalıdır.
- ☐ Sınıf başkanından izin almalıdır.
- ☐ Hizmetliden izin almalıdır.

5. Aşağıdakilerden hangisi ders araç gereçlerinden biri değildir?



6. Aşağıdakilerden hangisi doğru bir ifade değildir?

- ☐ Silgini verebilir misin?
- ☐ Özür dilerim.
- ☐ Topu sadece ben oynayacağım.

7. Okulumuzda aşağıdakilerden hangisini kazandığımız söylenemez?

- ☐ Kavga etmeyi öğrendim.
- ☐ Sayıları ve harfleri öğrendim.
- ☐ Yeni arkadaşlar edindim.